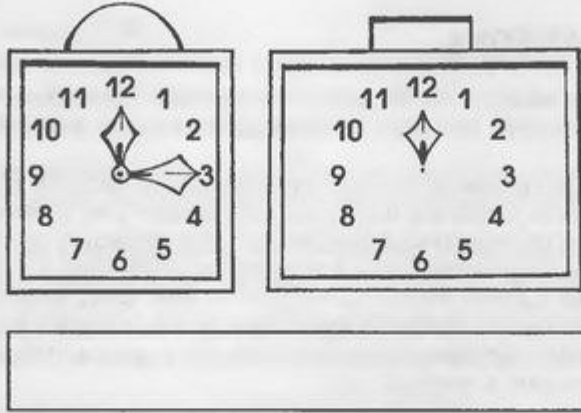



Развитие произвольного внимания

Нарисуй в прямоугольнике столько кружков, сколько найдешь различий между часами.

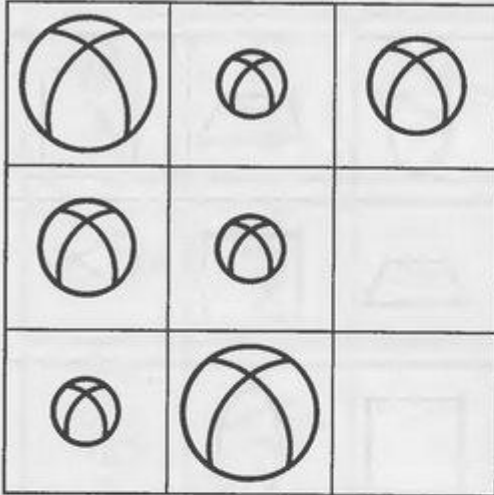


Нарисуй в прямоугольнике столько кружков, сколько найдешь отличий между мальчиками.




Поиск недостающего предмета. Величина

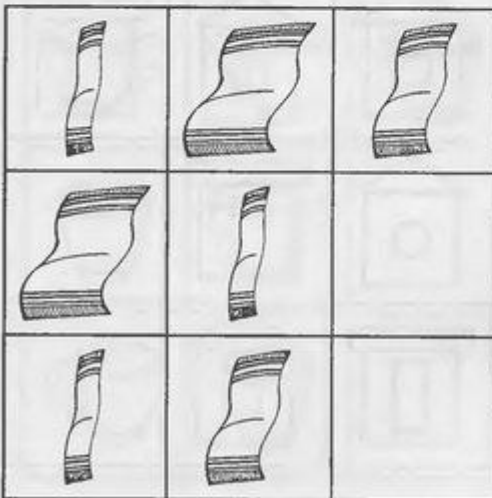
Дорисуй в пустых квадратах недостающий мяч.




Дорисуй в пустых квадратах недостающую ёлочку.



Дорисуй в пустых квадратах недостающее полотенце.



Дорисуй в пустых квадратах недостающий карандаш.



Умозаключения

Проведи стрелочку от зайчика к примеру, который он решал, если у белочки получился ответ 9, а у мишки ответ 8.




$4+4$

$6+3$

$4+3$




Проведи дорожку от лисы к вагончику, в котором она поедет, если волк поедет в третьем вагоне, а ежик в первом.



Умозаключения

Закрась дорожку, по которой Иван-царевич пойдет и найдет Сивку-Бурку. Сивка-Бурка находится в конюшне не справа и не посередине.

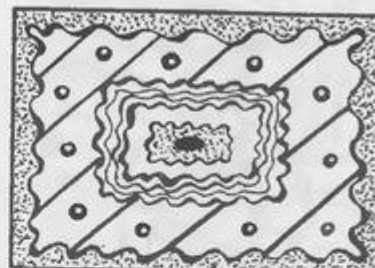


Проведи дорожку от девочки Наташи к сундучку, в котором спрятаны игрушки. Сундучок стоит не справа и не слева от Наташи.

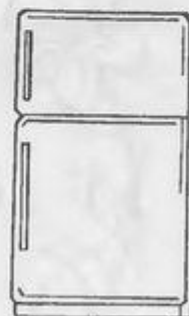


Умозаключения

Раскрась торт, форма которого не круг и не квадрат.



Обведи предмет, который нарисовал Чебурашка, если этот предмет не похож ни на круг, ни на прямоугольник.



Умозаключения

Посчитай и напиши, сколько лет Диме, если он на один год старше восьмилетнего Кости и на один год младше десятилетнего Андрея.



8
КОСТЯ



ДИМА



10
АНДРЕЙ

Закрась предмет, который нарисовал зайчик, если это не цветок и не портфель.

