

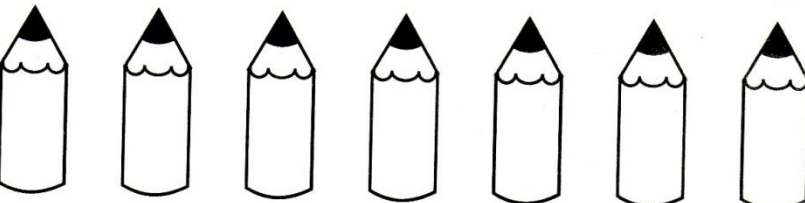


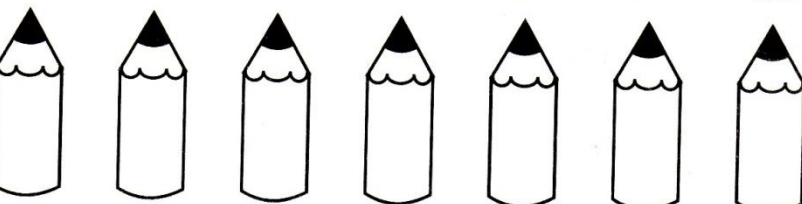
Разложение числа 7 из двух меньших


Закрась карандашей столько, сколько обозначает цифра слева. Напиши, сколько карандашей ты не закрасил. Сколько их в каждом ряду. Как получилось число 7?


$\boxed{6} + \square =$ 

$\boxed{5} + \square =$ 

$\boxed{4} + \square =$ 


$\boxed{3} + \square =$ 

$\boxed{2} + \square =$ 

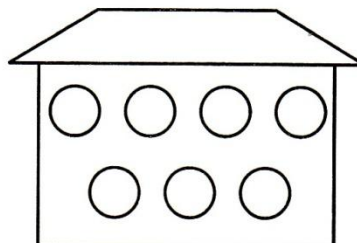
$\boxed{1} + \square =$ 

Состав числа 7 из двух меньших

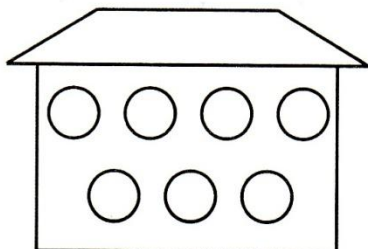
В каждом домике живут зайчики и кошки. Нарисуй их в каждом домике так, чтобы их вместе было 7, но в каждом разное количество кошек и зайчиков. Под каждым домиком напиши, сколько в нем кошек, сколько зайчиков. Прочитай записи.



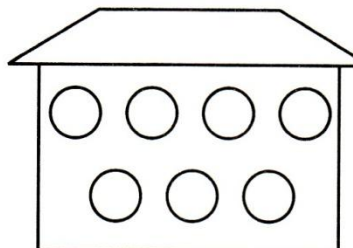
$$3 + 4 = 7$$



$$\square + \square = \square$$



$$\square + \square = \square$$



$$\square + \square = \square$$

Логическая задача

Обведи лишний мухомор. Объясни, почему он лишний.




Задачи-загадки. Число 7

Отгадай загадки. Напиши решение каждой загадки в прямоугольнике с клетками. Прочитай запись.

На скамейке я сижу
И на воробьёв смотрю,
Я хочу их сосчитать.
Вот собрались в стайку пять,
И ещё два прилетели,
Зачирикали, запели.
Надо же — не улетают:
Ждут, когда их сосчитают.

И. Блюмкин



--	--	--	--	--



Шесть грибов нашёл Вадим,
А потом ещё один.
Вы ответьте на вопрос:
Сколько он грибов принёс?





--	--	--	--	--



Нахождение и устранение несоответствия. Число 7

Послушай стихотворение и исправь ошибки художника.
Скажи, что художник сделал не так.

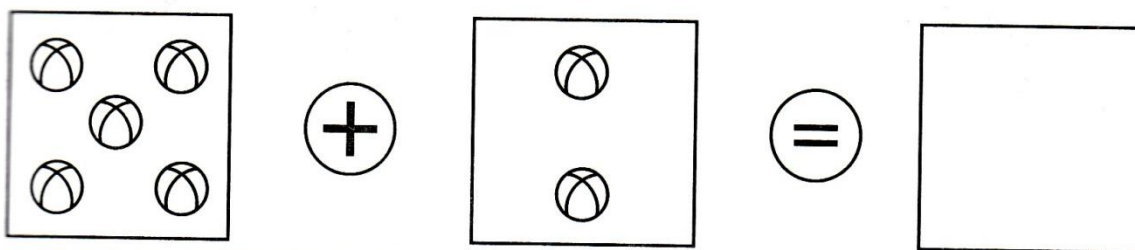

На улице Бассейной
Один художник жил.
И иногда рассеянный
Неделями он был.
Что-то, наверное, было не так.
Что же напутал художник-чудак?



Закрепление знаний о составе числа 7 из двух меньших

А теперь ты сам считаешь,
Отнимаешь и прибавляешь.
В клетках, где предметов нет
Сам записываешь ответ.

М. Мышковская



Напиши каждому мальчику и каждой девочке цифры так, чтобы при их сложении получилось число 7. Скажи, какие цифры ты написал.

